



**ශ්‍රී ලංකා සහතිකලත් කළමනාකරණ ගණකාධිකාරීන්ගේ සංගමය**

**ශිල්පීය අදියර**

**2008 සැප්තැම්බර් විභාගය**

විභාග දිනය : 2008 සැප්තැම්බර් 21  
විභාග වේලාව : ප.ව. 1.30 - ප.ව. 4.30

පිටු ගණන : 06  
ප්‍රශ්න ගණන : 09

අයදුම්කරුවන්ට උපදෙස්:

1. නියමිත කාලය පැය 3 කි.
2. I කොටසේ සියලුම ප්‍රශ්නවලට ද, II කොටසේ A කාණ්ඩයෙන් ප්‍රශ්න දෙකකට ද, B කාණ්ඩයෙන් ප්‍රශ්න දෙකකට ද උත්තර සපයන්න.
3. උත්තර එක් භාෂාවකින් (සිංහල) පමණක් ලියන්න.

<b>විෂය</b>	<b>විෂය සංකේතය</b>
<b>ආර්ථික විද්‍යාව හා ජාත්‍යන්තර ව්‍යාපාර</b>	<b>(ECN / 505)</b>

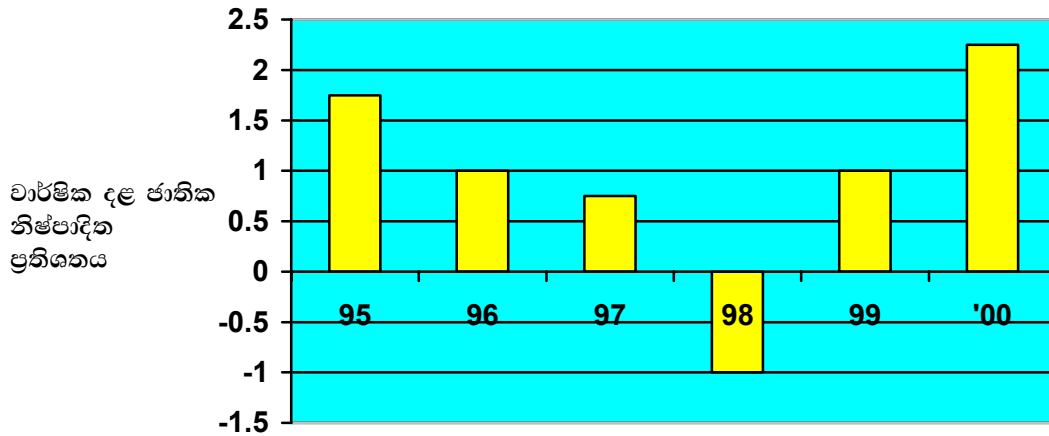
**I කොටස**

සියලුම ප්‍රශ්නවලට පිළිතුරු සපයන්න. නිවැරදි පිළිතුරු, සපයා ඇති උත්තර පත්‍රයේ පැන්සලකින් සඳහන් කරන්න.

**ප්‍රශ්න අංක 01 (ලකුණු 20)**

- (1) ශිෂ්‍යාවක් පසුගිය මාසයට තමාගේ ආදායම හා වියදම සඳහන් කරයි. මේ අවස්ථාවේ දී මුදලින් ඉටුවන කාර්යය කුමක් ද?
  - (a) විනිමය මාධ්‍යය
  - (b) කල්තබා ගෙවීමේ කාර්යය
  - (c) අගය තක්සේරු කිරීම
  - (d) අගය එක්රැස් කිරීම
- (2) වෘත්තීය සමිතියක් මගින් වැඩි වැටුප් ලබාගැනීමේ උත්සාහයට පහත සඳහන් වගන්තිවලින් කුමන වගන්තිය අදාළ නොවේ ද?
  - (a) පාරිභෝගික ඉල්ලුම
  - (b) කම්කරු ඉපැයුම
  - (c) ලාභය
  - (d) විරැකියාව
- (3) ව්‍යාපාර සංවිධානයක අයිතිවාසිකම හා පාලනය වෙන්වීම යනුවෙන් හැඟෙන්නේ කුමක් ද?
  - (a) ශ්‍රමිකයන්ගේ පාලනය වැඩිවීම
  - (b) ව්‍යාපාර සංවිධාන කුලට රජයේ මැදිහත්වීම වැඩිවීම
  - (c) අයිතිකරුවන් නොවන අය කළමනාකරුවන් ලෙස පත් කිරීම.
  - (d) පුද්ගලික ව්‍යවසාය පුළුල් කිරීම.
- (4) බොහෝ රටවල බැංකු ව්‍යාපාරය පාලනය කරන ආයතනය කුමක් ද?
  - (a) මධ්‍යම බැංකුව
  - (b) වාණිජ බැංකු
  - (c) ආයෝජන බැංකු
  - (d) ලෝක බැංකුව

- (5) බොහෝ රටවල් එම ආර්ථිකයේ වෙළඳපොල බලවේග පුළුල් කර තිබේ. මේ කාර්යයෙන් බලාපොරොත්තු වන ප්‍රතිඵලය කුමක් ද?
- ආර්ථික කාර්යක්ෂමතාවය වැඩිදියුණු කිරීම
  - ආදායමේ සමානකම් ඇති කිරීම
  - අඩු විශේෂීකරණය
  - වැඩි රාජ්‍ය පාලනය
- (6) ඉදිරි සිරස් සංයෝජනයට උදාහරණයක් වන්නේ,
- මෝටර් රථ නිෂ්පාදයකුට ටයර නිෂ්පාදනයක් ගැනීම
  - ටයර නිෂ්පාදකයෙක් මෝටර් රථ අලෙවි ව්‍යාපාරයක් ගැනීම
  - ටයර නිෂ්පාදකයෙක් රබර් වතු වගාවක් ගැනීම
  - ටයර නිෂ්පාදකයෙක් තවත් ටයර නිෂ්පාදකයෙක් ගැනීම
- (7) ආණ්ඩුව එහි විශ්‍රාම ගෙවීම් විශ්‍රාමිකයන්ට වැඩි කිරීමෙන් කුමක් ක්ෂණිකව වැඩි වේද?
- දළ ජාතික නිෂ්පාදනය
  - රජයේ වියදම
  - අයවැය අතිරික්තය
  - ජීවන වියදම
- (8) පහත සඳහන් ප්‍රස්තාරයෙන් රටේ ආර්ථික වර්ධනය පෙන්නුම් කරයි.



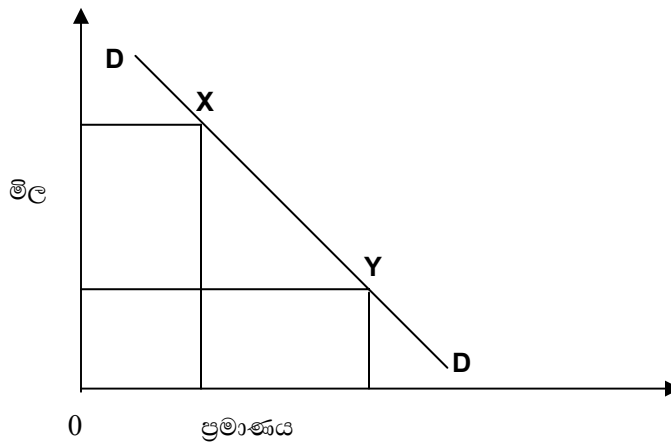
මින් කුමන වගන්තිය සත්‍ය වේද?

- ද.ජා.නි. 1996-97 දක්වා පහත වැටිනි
  - ද.ජා.නි. 1998 අඩු විය
  - ද.ජා.නි. 1995-1996 දක්වා වැඩි විය
  - 1996-1999 දක්වා ආර්ථික වර්ධනයක් නොමැත
- (9) ව්‍යාපාරයක් බහුජාතික සමාගමක් වශයෙන් හැඳින්වීමට කුමක් අවශ්‍ය ද?
- විවිධ භාණ්ඩ නිෂ්පාදනය
  - එහි නිමැවුමෙන් වැඩි ප්‍රමාණයක් අපනයනය කිරීම
  - එහි නිපදවීම් පරිමාණය වැඩි කිරීම
  - එහි නිෂ්පාදනය විවිධ රටවල නිපදවීම
- (10) කුඩා ව්‍යාපාරිකයකුට විශාල ව්‍යාපාරිකයකු සමඟ තරඟ කිරීමට කුමන වාසියක් හිමි විය යුතු ද?
- පහසු පිහිටුවීමක්
  - විවිධ භාණ්ඩ වර්ග
  - අභ්‍යන්තරික පරිමාණ වාසි
  - ජාතික ප්‍රචාරය

- (11) වානිජ බැංකුවක් රටක මධ්‍යම බැංකුව ලෙස ක්‍රියා කිරීමට පත් කර තිබේ නම්, කුමන නව කාර්යයක් හිමි විය යුතු ද?
- (a) මූල්‍ය ප්‍රතිපත්ති පාලනය
  - (b) විදේශික විනිමය කටයුතු
  - (c) ණය මුදල්වලට සුරැකුම් ඇති කිරීම
  - (d) ද්‍රව්‍ය (liquid) වත්කම් තබාගැනීම

- (12) වෘත්තීය සමිති කාර්යයන් අතුරින් ව්‍යාපාරයක් කෙරෙහි වඩාත් අසතුටුදායක ප්‍රතිඵලය විය හැක්කේ,
- (a) නව තාක්ෂණය පිළිගැනීම
  - (b) වැඩිපුර දීමනාවන්ට එකඟ වීම
  - (c) රැකියාවෙන් අස්කරවීමට එකඟ නොවීම
  - (d) ව්‍යාපාරයේ ලාභ සහකරුවකු වීමට එකඟ වීම

(13)



ඉහත දක්වා ඇති රූපසටහනේ පෙන්වුම් කරන්නේ පළතුරුවලට ඇති ඉල්ලුමයි. කුමන හේතුවක් නිසා X සිට Y වලට ඉල්ලුම මාරු විය හැකි ද?

- (a) ආශාවේ වෙනසක්
  - (b) පළතුරු මිල පහත වැටීමක්
  - (c) ආදායම වැඩි වීමක්
  - (d) සාර්ථක ප්‍රචාරණ ව්‍යාපාරයක්
- (14) පහත සඳහන් වගුවේ X වල මිල, ඉල්ලුම හා සැපයුම දක්වයි.

මිල රු.	ඉල්ලුම (ටොන්)	සැපයුම (ටොන්)
20	16	10
30	12	12
40	10	14

රජය රු. 40 ක අවම මිලක් දැමුවහොත් කුමක් සිදු විය හැකි ද?

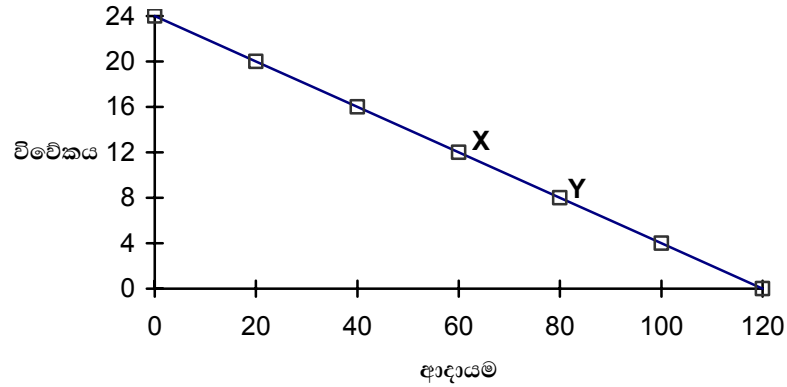
- (a) X හි මිල පහළ වැටීම
- (b) X වල හිඟකමක් ඇති වීම
- (c) X අතිරික්තයක් ඇති වීම
- (d) X වලට ඉල්ලුම් ලැයිස්තුවක් ඇති වීම

- (15) පෙ.ව. 9.00 ට පෙර ගමන්වාරයන්හි ඉල්ලුම අනමාස බවත්, පෙ.ව. 9.00 ට පසු නමාස බවත් බස් රථ සමාගම දැනී.

ඒ සමාගමේ මුළු ආදායම වැඩි කිරීමට නම්,

- (a) සියලුම ගාස්තු වැඩි කළ යුතුයි
- (b) පෙ.ව. 9.00 ට පෙර ගාස්තු වැඩි කළ යුතුයි
- (c) සියලුම ගාස්තු අඩු කළ යුතුයි
- (d) පෙ.ව. 9.00 ට පෙර ගාස්තු අඩු කළ යුතුයි

- (16) පහත වගුවෙන් පෙන්වුම් කරන්නේ පුද්ගලයකුගේ විවේකය හා ආදායම අතර සම්බන්ධතාවයයි.



X සිට Y වලට විතැන් වීමේ දී ලබන වැඩිපුර ආදායමෙන් පුද්ගලයකුට ඇති විය හැකි ආවස්ථික පිරිවැය කුමක් ද?

- (a) රු. 20
- (b) රු. 80
- (c) පැය 4 ක විවේකය
- (d) පැය 8 ක විවේකය

- (17) පහත සඳහන් වත්කම්වලින් "ඉඩම්" යන නිෂ්පාදන සාධකයකට හිමි නොවන වත්කම කුමක් ද?

- (a) කැලෑවක්
- (b) ස්වභාවික වරායක්
- (c) තෙල් ලිදක්
- (d) මහා පාරක්

- (18) බාහිර මහා පරිමාණ ලක්ෂණයක් විය හැක්කේ කුමක් ද?

- (a) වෙනත් සමාගම්වලින් යන්ත්‍ර මිල දී ගැනීම
- (b) වෙනත් සමාගම් සමඟ පර්යේෂණ පැවැත්වීම
- (c) වෙනත් සමාගම්වලට මුදල් ණයට දීම
- (d) නිපැයුම් වෙනත් සමාගම්වලට විකිණීම

- (19) ඒකාධිකාරී වෙළඳපොළක විශාල ව්‍යාපාරයකට අහිමි නොවන ලක්ෂණයක් වන්නේ,

- (a) මහා පරිමාණ ලක්ෂණ ලැබීම
- (b) රජයේ අවධානය යොමු වීම
- (c) අධික මිල අයකිරීම
- (d) වෙළඳපොළෙහි අධික තරඟයකට මුහුණ පෑම

- (20) ආර්ථික වර්ධනයේ අවාසියක් වන්නේ මින් කුමක් ද?

- (a) රජයේ බදු ආදායම අඩුවීම
- (b) සම්පත් හිඟකම
- (c) සේවා වියුක්තිය වැඩිවීම
- (d) ජනගහනයේ ජීවන තත්ත්වය පහත වැටීම

(ලකුණු 01 x 20 = ලකුණු 20)  
I කොටස අවසානයයි

I කොටස

A අංශය

ප්‍රශ්න 02 කට පමණක් පිළිතුරු සපයන්න.

**ප්‍රශ්න අංක 02 (ලකුණු 20)**

සෑම ආර්ථිකයකටම මුහුණ පෑමට සිදුවන්නේ එකම ආර්ථික ප්‍රශ්නයකට ය. නමුත් ආර්ථිකයක් තවත් ආර්ථිකයකින් වෙනස් වන්නේ ඒවාට ඇති සැලසුම් නිසා ය.

- (a) රටක මූලික ආර්ථික ප්‍රශ්ණ කවරේද? (ලකුණු 03)
- (b) වෙළඳ ආර්ථිකයක ප්‍රධාන ලක්ෂණ විස්තර කරන්න. (ලකුණු 07)
- (b) සැලසුම් ආර්ථික ක්‍රමයක් වෙනස් වන්නේ කෙසේ ද? (ලකුණු 10)  
(මුළු ලකුණු 20)

**ප්‍රශ්න අංක 03 (ලකුණු 20)**

- (a) ඉල්ලුම් වක්‍රය සංකෝචනය වීම හා ප්‍රසාරණය වීම යනුවෙන් හැඳින්වෙන්නේ කුමක් ද? ඊට හේතු මොනවා ද? රූප සටහනක් ආශ්‍රයෙන් පැහැදිලි කරන්න. (ලකුණු 10)
- (b) ඉල්ලුම් වක්‍රය විතැන්වීම යනු කුමක් ද? ඊට හේතු මොනවා ද? රූපසටහන් සමඟ පැහැදිලි කරන්න. (ලකුණු 10)  
(මුළු ලකුණු 20)

**ප්‍රශ්න අංක 04 (ලකුණු 20)**

- (a) ව්‍යාපාරයකට ඒකාධිකාරී තත්වයක් ලැබෙන අයුරු විස්තර කරන්න. (ලකුණු 12)
- (b) ඒකාධිකාරී ව්‍යාපාරයක වෙළඳපොලේ සමතුලිතතාවය රූපසටහනක් ඇඳ පැහැදිලි කරන්න. (ලකුණු 08)  
(මුළු ලකුණු 20)

**ප්‍රශ්න අංක 05 (ලකුණු 20)**

මේවා පිළිබඳ කෙටි සටහන් ලියන්න.

- (a) ආවස්ථික පිරිවැය (ලකුණු 05)
- (b) නිෂ්පාදන හැකියා මායිම (ලකුණු 05)
- (c) අතිරික්ත ඉල්ලුම (ලකුණු 05)
- (d) අදාශ්‍යමාන හස්තය (ලකුණු 05)  
(මුළු ලකුණු 20)

A අංශය අවසානයයි

**B අංශය**

ප්‍රශ්න 02 කට පමණක් පිළිතුරු සපයන්න.

**ප්‍රශ්න අංක 06 (ලකුණු 20)**

- (a) උද්ධමනයක් ඇති කළ හැකි ප්‍රධාන හේතු මොනවා ද? (ලකුණු 09)
- (b) උද්ධමනය නිසා ආර්ථිකයේ ඇති විය හැකි ප්‍රතිඵල මොනවා ද? (ලකුණු 11)  
(මුළු ලකුණු 20)

**ප්‍රශ්න අංක 07 (ලකුණු 20)**

- (a) ජාත්‍යන්තර වෙළඳාම නිසා ලැබිය හැකි වාසි මොනවා ද? (ලකුණු 09)
- (b) මෙවැනි වාසි තිබිය දී, සමහර රටවල් ආරක්ෂණවාදී ප්‍රතිපත්තියක් අනුගමනය කරන්නේ ඇයි? (ලකුණු 08)
- (c) ආරක්ෂිත ප්‍රතිපත්ති ක්‍රියාත්මක කිරීමට ගත හැකි ක්‍රියාමාර්ග 4 ක් දෙන්න. (ලකුණු 03)  
(මුළු ලකුණු 20)

**ප්‍රශ්න අංක 08 (ලකුණු 20)**

- (a) රටක ආර්ථික වර්ධනය යනු කුමක් ද? (ලකුණු 04)
- (b) ආර්ථික වර්ධනයේ පිරිවැයන් මොනවා ද? (ලකුණු 08)
- (c) ආර්ථික වර්ධනය නිසා ලැබිය හැකි යහපත් ප්‍රතිඵල විස්තර කරන්න. (ලකුණු 08)  
(මුළු ලකුණු 20)

**ප්‍රශ්න අංක 09 (ලකුණු 20)**

- (a) ජාතික ආදායම නිර්වචනය කර වක්‍රීය ආදායම් ප්‍රවාහය සඳහන් කර රූපසටහනක් දෙන්න. (ලකුණු 08)
- (b) ජාතික ආදායම තක්සේරු කිරීමෙන් ලැබෙන ප්‍රයෝජන විස්තර කරන්න. (ලකුණු 08)
- (c) ජාතික ආදායම සම්පාදනය කරන විට මුහුණ පෑමට සිදුවන ගැටලු 2 ක් දක්වන්න. (ලකුණු 04)  
(මුළු ලකුණු 20)

B අංශය අවසානයයි

II කොටස අවසානයයි

ප්‍රශ්න පත්‍රය අවසානයයි