



© සියලු ම හිමිකම් ඇවිරිණි.

අනු අංකය: .....

## සහතිකලත් කළමනාකරණ ගණකාධිකාරීන්ගේ සංගමය (ශ්‍රී ලංකා)

### තාක්ෂණික අදියර

### 2008 මාර්තු විභාගය

විභාග දිනය : 2008 මාර්තු 02  
විභාග වේලාව : ප.ව. 1.30 - ප.ව. 4.30

පිටු ගණන : 06  
ප්‍රශ්න ගණන : 09

#### අයදුම්කරුවන්ට උපදෙස්:

1. වෙන්කළ කාලය පැය 03 යි.
2. I කොටසේ සියලුම ප්‍රශ්නවලට ද, II කොටසේ 'අ' ඛණ්ඩයෙන් ප්‍රශ්න දෙකකට ද, 'ආ' ඛණ්ඩයෙන් ප්‍රශ්න දෙකකට ද (මුළු ප්‍රශ්න 5) පිළිතුරු සපයන්න.
3. පිළිතුරු සිංහල භාෂාවෙන් සපයන්න.

විෂය	විෂය සංකේතය
ආර්ථික විද්‍යාව හා ජාත්‍යන්තර ව්‍යාපාර	ECN

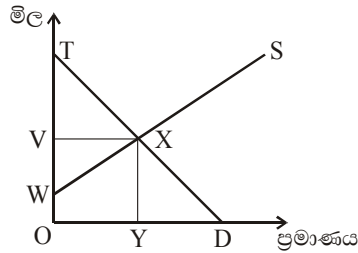
#### I කොටස

#### ප්‍රශ්න අංක 01 (ලකුණු 20)

1 ප්‍රශ්නයේ සියලුම කොටස්වලට පිළිතුරු සපයන්න. සෑම ප්‍රශ්නයකටම වඩාත්ම නිවැරදි උත්තරය තෝරාගෙන එහි අංකය හා ඉංග්‍රීසි අක්ෂරය ඔබට සපයා ඇති පිළිතුරු පොතේ ලියන්න.  
උදා: (1) a, (2) b ආදී වශයෙන්

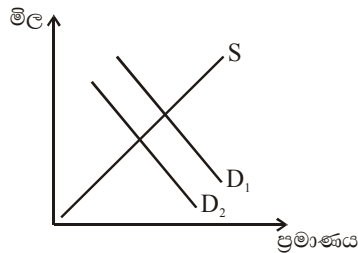
- (1) පහත ඒවායින් කුමක් වෙළෙඳපොළ අර්ථ ක්‍රමයේ වාසියක් ලෙස සැලකේ ද?
  - (a) සම ආදායම් ලබාදීම පිණිස අරමුණු කර තිබීම.
  - (b) එමගින් නිෂ්පාදනය සඳහා දිරියක් ලබාදීම.
  - (c) ආරක්‍ෂාව, නීතිය හා විනය ඇති කිරීම සහතික වීම.
  - (d) පරිසර දූෂණය හා තදබදය අඩු කරලීම.
- (2) සැලසුම් අර්ථ ක්‍රමයක බොහෝවිට පාරිභෝගික භාණ්ඩ ලබාගැනීමට දිග පෝලිම් දක්නට ලැබේ. පහත සඳහන් වාක්‍යවලින් කුමක් ඒ ගැන සඳහන් වේද?
  - (a) භාණ්ඩ බෙදාහැරීම අකාර්යක්ෂමයි.
  - (b) නිෂ්පාදන සාදක නිදහසේ වලනය විය හැක.
  - (c) ලාභ උපරිම වන ආකාරයට පිටවුම් පිළිබඳ තීරණ ගනී.
  - (d) නිෂ්පාදනය නිගමනය වන්නේ පාරිභෝගික අවශ්‍යතා අනුව ය.
- (3) වෛද්‍යවරුන් ඡතර දෙනෙකුගෙන් යුක්ත කණ්ඩායමකට පහත දැක්වෙන ව්‍යාපාර සංවිධානවලින් කුමක් වඩාත්ම සුදුසු යැයි සැලකිය හැකි ද?
  - (a) හවුල් ව්‍යාපාරයක්
  - (b) පෞද්ගලික සමාගමක්
  - (c) පොදු සමාගමක්
  - (d) රාජ්‍ය සංස්ථාවක්

- (4) ලොව පුරා පරිගණක නිපදවන සමාගමක කොටස් මේසන් මහතා මිලට ගත්තේ ය. සිල්ලර බඩු ගබඩාවක් අයිති ඩීන් මහතා එය පවත්වාගෙන යයි. පහත සඳහන් ඒවායින් කුමක් එම ව්‍යාපාර ගණයට අයත් නොවන්නේ ද?
- (a) සමුපකාරය  
 (b) බහු ජාතික සමාගම  
 (c) පොදු සමාගම  
 (d) කේවල ස්වාමි ව්‍යාපාරය
- (5) තම සාමාජිකයින්ගේ වැටුප් වැඩි කරගැනීමේ සාකච්ඡාවල දී වෘත්තීය සංගම් එලදායී වන්නේ,
- (a) ආර්ථික පරිහාණියක් ඇති විට  
 (b) ආර්ථික වෘද්ධියක් ඇති විට  
 (c) නිෂ්පාදනය පහළ යන කාලපරිච්ඡේදයක දී  
 (d) සේවා විසුකිතිය ඉහළ යන කාලපරිච්ඡේදයක දී
- (6) පහත සඳහන් ඒවායින් මහ බැංකුව හා වාණිජ බැංකු පොදුවේ ඉටු නොකරන කාර්යය කුමක් ද?
- (a) මූල්‍ය ප්‍රතිපත්තිය පාලනය කිරීම.  
 (b) බැංකුකරුවන්ගේ බැංකුව ලෙස කටයුතු කිරීම.  
 (c) විදේශ විනිමය කටයුතු කිරීම.  
 (d) බැංකු කටයුතු අධීක්ෂණය කිරීම.
- (7) පහත සඳහන් රූප සටහනෙන් දැක්වෙන්නේ ඉරිඟු වෙළෙඳපොළ සමතුලිතයයි.



ඉරිඟු ගොවීන්ගේ ආදායම කුමන වර්ගඵලයෙන් දැක්වේ ද?

- (a) ATXY  
 (b) OWXD  
 (c) OVXY  
 (d) OWXY
- (8) කාර් නිෂ්පාදනයේ දී රජය විසින් බද්දක් අයකරනු ලැබුවහොත් පහත සඳහන් ඒවායින් කුමක් අඩු වේද?
- (a) කාර් සැපයුම් පිරිවැය  
 (b) කාර් මිල  
 (c) රජයේ ආදායම  
 (d) සෑම මිලක් යටතේම කාර් සැපයුම
- (9) පාන් සඳහා ඇති ඉල්ලුම  $D_1$  සිට  $D_2$  දක්වා වෙනස්වීම කෙරෙහි පහත සඳහන් ඒවායින් කුමක් බලපායි ද?

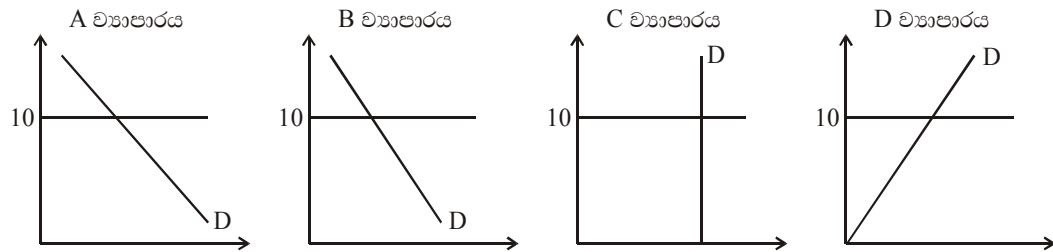


- (a) පාන් නිෂ්පාදන පිරිවැය අඩු වීම.
- (b) පාන්වල විකල්පයක මිල අඩු වීම.
- (c) පාන් කෑම සෞඛ්‍යයට හිතකර බව පුවත්පතක පළවීම.
- (d) පාන්වල අනුපූරකයක මිල ඉහළ යෑම.

(10) තරඟකාරී කර්මාන්තයක මිල ඒකාධිකාරයට වඩා අඩු වේ. පහත දැක්වෙන වාක්‍යවලින් කුමක් ඒ ගැන සඳහන් වේද?

- (a) වෙළෙඳපොළ කෙරෙහි ඒකාධිකාරයට ඇති බලපෑම අඩු ය.
- (b) තරඟකාරී කර්මාන්තයක ආර්ථික පිරිමැසුම් වැඩි ය.
- (c) තරඟකාරී වෙළෙඳපොළකට අලුත් ව්‍යාපාරවලට ඇතුල් විය හැකි ය.
- (d) ඒකාධිකාරයක ලාභ අඩු ය.

(11) සමාගම් හතරක ඉල්ලුම් රේඛා දැක්වෙන පරිදි පහත සඳහන් ප්‍රස්ථාර සමාන පරිමාණයට ඇඳ ඇත. වෙළෙඳපොළ මිල \$ 10 කි. මිල \$ 8 දක්වා අඩුවීම පහත සඳහන් ඒවායින් කුමක් නිරූපණය වේද?



- (a) A ව්‍යාපාරය
- (b) B ව්‍යාපාරය
- (c) C ව්‍යාපාරය
- (d) D ව්‍යාපාරය

(12) අඩු පරිමාණ වැටුප් දැක්වෙන සංයෝගය කුමක් ද?

	සැපයුම	ඵලදායීතාවය
A	පහළ යයි	පහළ යයි
B	පහළ යයි	පහළ යයි
C	ඉහළ යයි	පහළ යයි
D	ඉහළ යයි	ඉහළ යයි

- (a) A
- (b) B
- (c) C
- (d) D

(13) ඇඳුම් නිපදවන විශාල නිෂ්පාදකයෙකු සිල්ලර ව්‍යාපාර මිලට ගෙන තම ව්‍යාපාර පුළුල් කළේ ය. පහත සඳහන් ඒවායින් කුමක් ඒ සඳහා උදාහරණයක් වේද?

- (a) විවිධාංගීකරණය
- (b) බාහිර ආර්ථික පරිමාණුකුල ඵල
- (c) සිරස් සංයෝජන
- (d) තිරස් සංයෝජන

(14) රටේ ආර්ථික වෘද්ධියක් ඇති බවට පුවත්පතක් වාර්තා කොට ඇත. ආර්ථික විද්‍යාඥයෙකුට මෙයින් අදහස් වන්නේ කුමක් ද?

- (a) නිෂ්පාදනය වැඩි වී ඇති බව
- (b) ජනගහනය වැඩි වී ඇති බව
- (c) ඉතිරිකිරීම් වැඩි වී ඇති බව
- (d) බදු වැඩි වී ඇති බව

- (15) රටක් උද්ධමන කාලපරිච්ඡේදයකට ලක් වෙමින් පවතී. ඒ සම්බන්ධයෙන් පහත සඳහන් ඒවායින් කුමක් වැඩි වෙමින් පවතී ද?
- (a) වැටුප් මට්ටම්
  - (b) භාණ්ඩ හා සේවා නිමැවුම
  - (c) භාණ්ඩ හා සේවා සඳහා විදේශීය කළ මුදල් ප්‍රමාණය
  - (d) භාණ්ඩ හා සේවා මිල
- (16) උපන් අනුපාතය අඩුවන්නේ නම් පහත සඳහන් ඒවායින් කුමක් එම කාලයේ රටක ජනගහනය වැඩිවීම කෙරෙහි බලපායි ද?
- (a) සාප්පය අනුපාතය පහළ වැටීම
  - (b) ළදරු මරණ අනුපාතය පහත වැටීම
  - (c) ශුද්ධ ධන සංක්‍රමණය
  - (d) ශුද්ධ ඍණ සංක්‍රමණය
- (17) ජාත්‍යන්තර විශේෂ ප්‍රාගුණය කෙරෙහි පහත සඳහන් ඒවායින් කුමක් වාසිදායක වේද?
- (a) තෝරාගැනීම සීමිත ය.
  - (b) රටවල් වඩාත් බැඳියාවකට යටත් වේ.
  - (c) කාර්යක්ෂම සම්පත් උපයෝජනය.
  - (d) පරිවහන පිරිවැය අඩු වීම.
- (18) බාහිර පිරිවැය අඩු කිරීම සඳහා පහත සඳහන් ඒවායින් කුමක් බද්දට යටත් කළ යුතු ද?
- (a) පාපැදි
  - (b) බස් ගාස්තු
  - (c) කාර් රථ
  - (d) දුම්රිය
- (19) ඉල්ලුම් කළමනාකරණ ප්‍රතිපත්ති වෙනුවට සැපයුම් සම්බන්ධ ප්‍රතිපත්ති ආදේශ කර ඇත. මෙයට අඩංගු වන්නේ,
- (a) සමාහාර ඉල්ලුම
  - (b) උෞණකා මූල්‍යනය
  - (c) නිවැරදි මූල්‍යකරණය
  - (d) උද්ධමනය
- (20) ස්වභාවික උද්ධමන අනුපාතය නොවෙනස්ව පවතින්නේ,
- (a) උද්ධමනය සමඟ ය.
  - (b) ආර්ථිකය සමතුලිත වීම සමඟ ය.
  - (c) පිලිගස් වක්‍රය සමඟ ය.
  - (d) සමාහාර ඉල්ලුම සමඟ ය.

(ලකුණු 01 x 20 = මුළු ලකුණු 20)

## II කොටස

### "අ" ඛණ්ඩය

#### **ප්‍රශ්න අංක 02 (ලකුණු 20)**

- (a) සෑම ආර්ථිකයකම මූලික ප්‍රශ්න සමාන වේ. වෙනස් වන්නේ එම ප්‍රශ්න විසඳා ගන්නා ආකාරය අනුව ය. මිශ්‍ර අර්ථ ක්‍රමයක මේ ප්‍රශ්න විසඳා ගන්නේ කෙසේ ද? (ලකුණු 10)
- (b) කොමියුනිස්ට් අර්ථ ක්‍රම බිඳ වැටී නව ආර්ථික ප්‍රතිපත්ති යොදා ගැනීමට සිදු වූයේ ඇයි ද යන්න දැක්වන්න. (ලකුණු 10)  
(මුළු ලකුණු 20)

**ප්‍රශ්න අංක 03 (ලකුණු 20)**

- (a) අසමතුලිත මිල යනු කුමක් ද? (ලකුණු 05)
- (b) නිදහස් වෙළෙඳපොළ අර්ථ ක්‍රමයක මිල යන්ත්‍රණය ක්‍රියාත්මක වන්නේ කෙසේ ද? (ලකුණු 10)
- (c) ඉල්ලුම් වක්‍රයක් දිගේ ගමන් කිරීම හා ඉල්ලුම් වක්‍රයක් වැතින්වීම යන්නෙහි වෙනස කුමක් ද? (ලකුණු 05)  
(මුළු ලකුණු 20)

**ප්‍රශ්න අංක 04 (ලකුණු 20)**

- (a) ඉල්ලුමේ ආදායම් නම්‍යතාවය නිර්වචනය කරන්න. (ලකුණු 06)
- (b) මිල රු. 5 සිට රු. 3 දක්වා අඩු වූ විට ඉල්ලුම ඒකක 15 සිට 20 දක්වා වෙනස්වීමේ මිල ඉල්ලුම් නම්‍යතාවය ගණනය කරන්න. (ලකුණු 06)
- (c) ඉල්ලුම් නම්‍යතාවය කෙරෙහි බලපාන සාධක විස්තර කරන්න. (ලකුණු 10)  
(මුළු ලකුණු 20)

**ප්‍රශ්න අංක 05 (ලකුණු 20)**

- (a) මහ බැංකුවේ කාර්යයන් විස්තර කරන්න. (ලකුණු 10)
- (b) උද්ධමනය පාලනය කිරීම සඳහා මහ බැංකුව යොදාගන්නා පාලන ක්‍රම මොනවා ද? (ලකුණු 05)
- (c) උද්ධමනය පාලනය කිරීමේ අවශ්‍යතාවය කුමක් ද? (ලකුණු 05)  
(මුළු ලකුණු 20)

“අ” ඛණ්ඩයේ අවසානය

**“ආ” ඛණ්ඩය**

**ප්‍රශ්න අංක 06 (ලකුණු 20)**

- (a) පෞද්ගලිකරණය යනු කුමක් ද? (ලකුණු 04)
- (b) බොහෝ රටවල් පෞද්ගලිකරණ ප්‍රතිපත්තියක් අනුගමනය කළේ ඇයි? (ලකුණු 10)
- (c) රාජ්‍ය ව්‍යාපාරවල වාසි මොනවා ද? (ලකුණු 06)  
(මුළු ලකුණු 20)

**ප්‍රශ්න අංක 07 (ලකුණු 20)**

- (a) ගෝලීයකරණය යනු කුමක් ද? (ලකුණු 04)
- (b) බහු ජාතික සමාගම්වලින් රටකට ඇති වාසි මොනවා ද? (ලකුණු 08)
- (c) බහු ජාතික සමාගම් රටකට කරදරයක් වන්නේ කෙසේ ද? (ලකුණු 08)  
(මුළු ලකුණු 20)

**ප්‍රශ්න අංක 08 (ලකුණු 20)**

- (a) ජාතික ආදායමේ වක්‍රීය ප්‍රවාහය ඇද විස්තර කරන්න. (ලකුණු 08)
- (b) ජාතික ආදායම පිළිබඳ දත්ත ගණනය කිරීමේ වාසි මොනවා ද? (ලකුණු 08)
- (c) ජාතික ආදායම ගණනය කිරීමේ දී මුහුණපාන ගැටලු හතරක් සඳහන් කරන්න. (ලකුණු 04)  
(මුළු ලකුණු 20)

**ප්‍රශ්න අංක 09 (ලකුණු 20)**

- (a) රජයක ප්‍රධාන මූල්‍ය ප්‍රභවයන් විස්තර කරන්න. (ලකුණු 10)
- (b) ආණ්ඩුවකට අයවැය ලේඛණයක් වඩා වැදගත් වන්නේ ඇයි? (ලකුණු 04)
- (c) රජයක ප්‍රධාන වියදම් අයිතමයන් මොනවා ද යන්න විස්තර කරන්න. (ලකුණු 06)  
(මුළු ලකුණු 20)

“අ” ඛණ්ඩයේ අවසානය  
II කොටසේ අවසානය

ප්‍රශ්න පත්‍රයේ අවසානය